

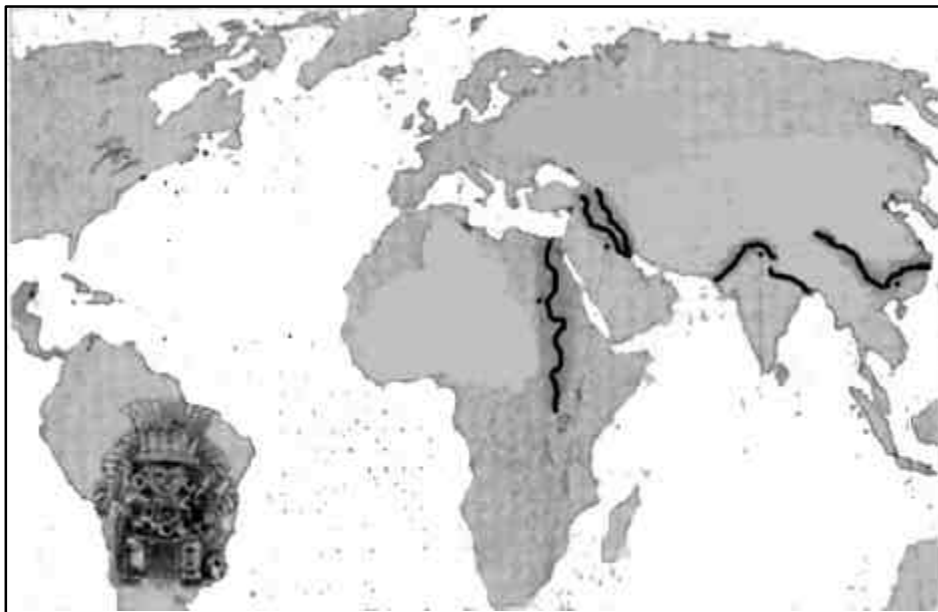
Nome

data.....

PROVA D'ENTRATA DI STORIA



Dove si sono sviluppate le grandi civiltà del passato? Indicalo sulla cartina seguendo i colori della legenda. Sui puntini scrivi i nomi dei luoghi.



LEGENDA:

● EGI ZI

● CINESI

● SUMERI

● FENICI

● ASSIRO-BABILONESI

● INDIANI



Analizza i seguenti documenti



.....

.....

.....

.....

.....

.....

.....

.....



.....

.....

.....

.....

.....

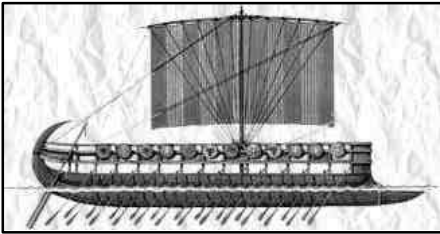
.....

.....

.....

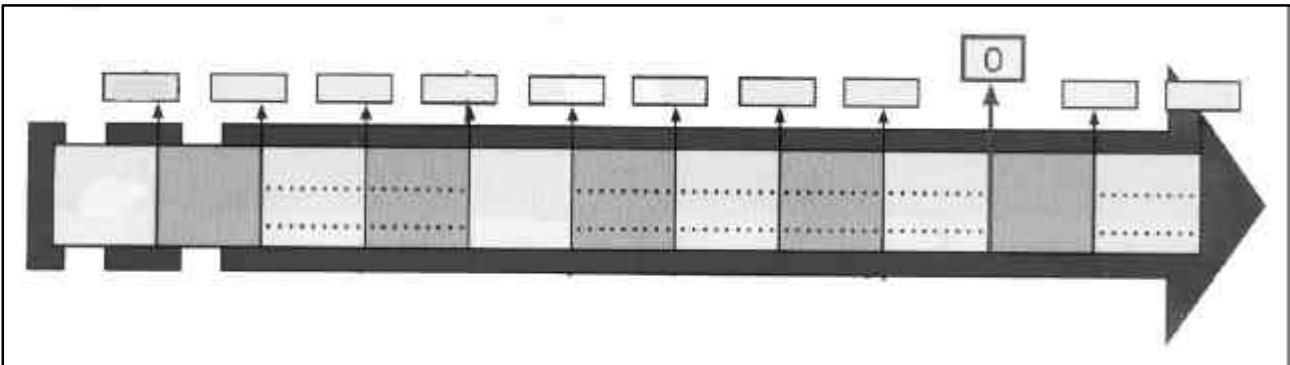
.....

.....



.....
.....
.....
.....
.....
.....
.....

Ora completa la linea del tempo. Ogni cartellino indica un millennio. Aggiungi al posto giusto i 2 cartellini mancanti: 3500 A.C. e 2500 A.C.



Cosa accadde nell'anno "0" ?

- 4000 A.C. i Sumeri si stabilirono in Mesopotamia
 - 3500 A.C. In Mesopotamia sorsero le prime città
 - 3000 A.C. le tribù dell'Alto e Basso Egitto si unificarono dando vita ad uno stato unitario
 - 2500 A.C. si svilupparono le prime città indiane
 - 1000 A.C. i Fenici inventarono la scrittura alfabetica
- Sulla linea del tempo dove siamo noi? Colora il cartellino corrispondente di **ROSSO**