

IL VENETO – VERIFICA

Colora di rosso il Veneto



1. In quale parte dell'Italia si trova?

.....

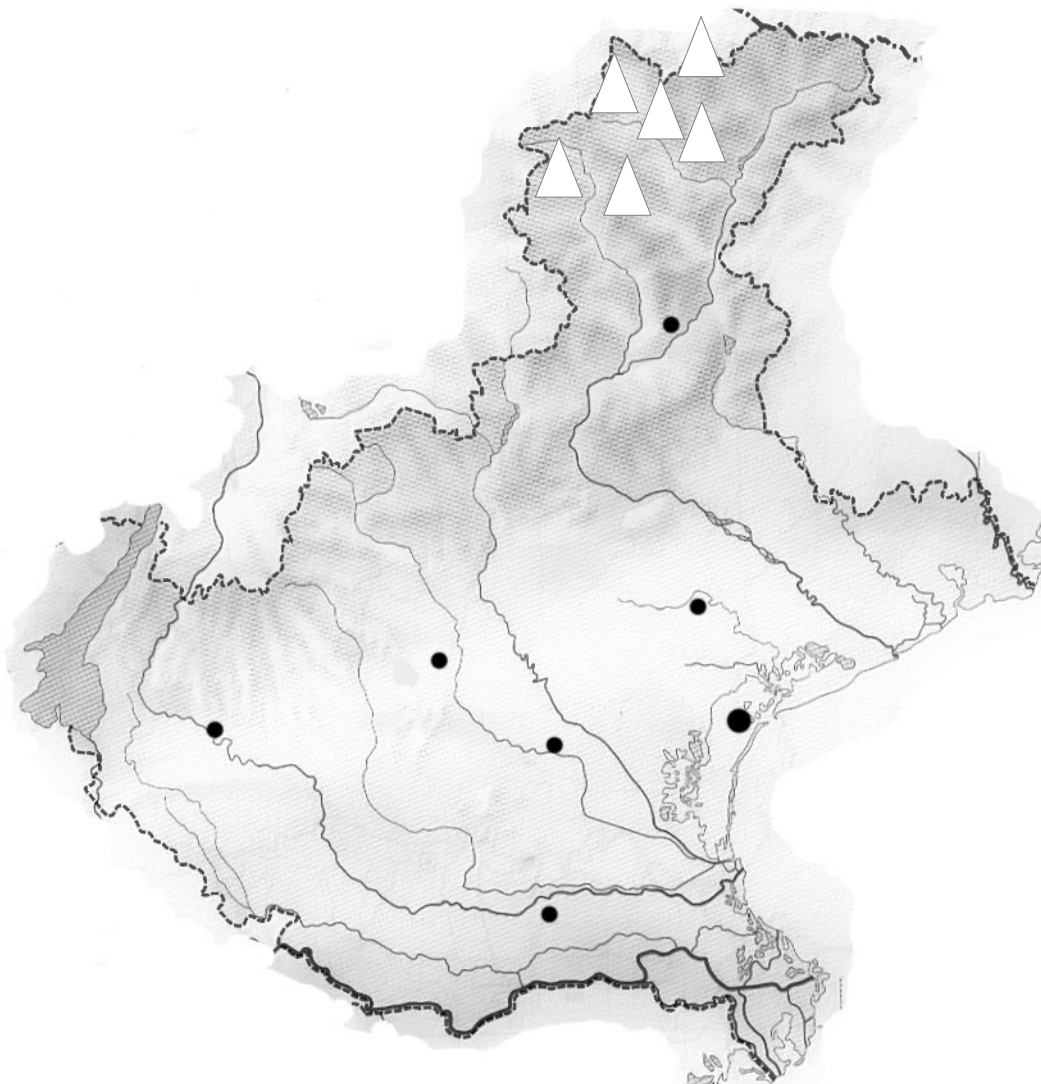
2. Quali sono i suoi confini?







.....

.....

.....

3. Completa la cartina seguendo le indicazioni:



MONTI:  Tre Cime di Lavaredo  Marmolada  Civetta
 Cristallo  Antelao  Le Tofane

PASSI: Monte Croce Comelico, Mauria, Pordoi

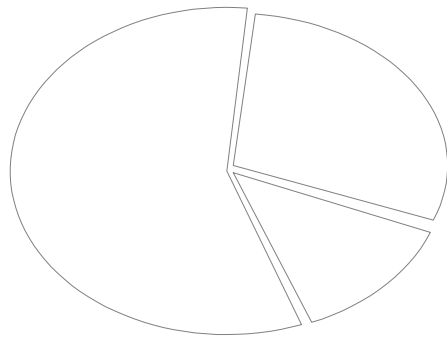
COLLINE:  Monti Berici,  Colli Euganei,  Monti Lessini

FIUMI: Po, Livenza, Brenta, Adige, Piave

CITTA' CAPOLUOGO

IL POLESINE, IL CADORE, LE DOLOMITI

4. Colora il grafico del territorio regionale (la pianura, la collina, la montagna) con i colori corrispondenti e poi verbalizza



.....

.....

.....

5. Collega ogni località al suo clima

CADORE

MITE

LAGO DI GARDA

ALPINO

IESOLO

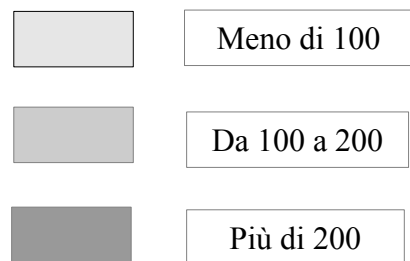
CONTINENTALE

TREVISO

MITE

6. Questa carta indica la densità di popolazione. Osservalo bene assieme alla legenda e poi verbalizza

abitanti per Km²



.....

.....

.....

.....

.....

.....

7. Quali sono le principali attività lavorative della popolazione?

.....

.....

.....

8. Quale tipo di industria è maggiormente sviluppato?

.....
.....

9. Quali sono e dove sorgono le grandi industrie?

.....
.....
.....
.....

10. Quali sono i principali prodotti dell'agricoltura?

.....
.....
.....
.....

11. Indica quali sono i principali poli turistici della regione e perché sono importanti

.....
.....
.....
.....
.....